

كتاب التمارين

الصف الاول الابتدائى

الفصل الاول

الفصل الثاني

الفصل الاول

الفصل الرابع

الفصل الثالث

الفصل السادس

الفصل الخامس

الفصل الاول

التصنيف و الانماط

التصنيف وفق خاصية واحدة

١٠١

التصنيف وفق أكثر من خاصية

١٠٢


يساوى

١٠٣


أكثر من ، أقل من

١٠٤

التصنيف وفق خاصية واحدة




التصنيف وفق أكثر من خاصية






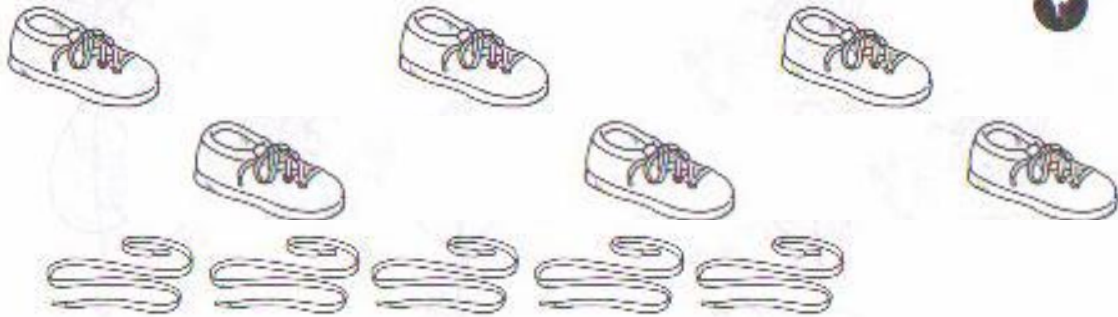
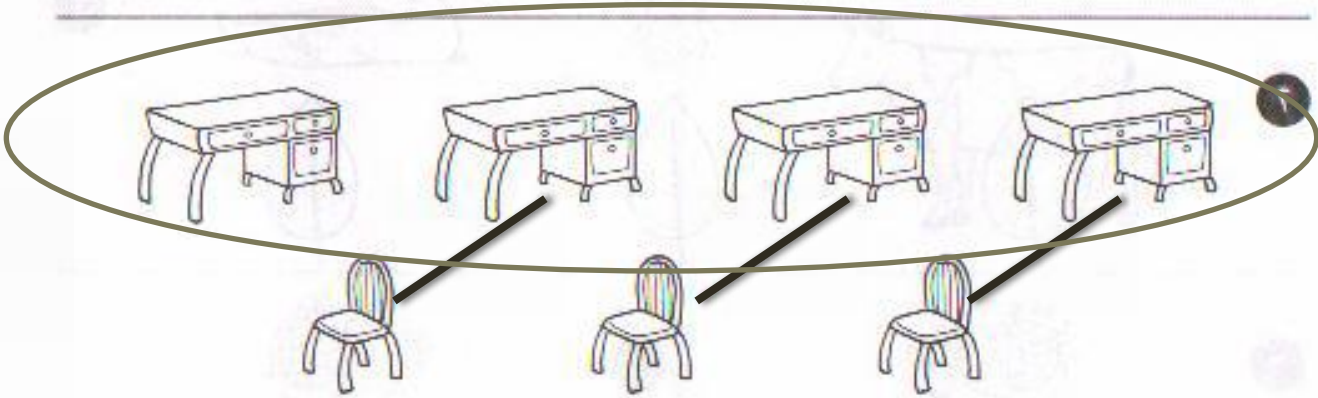
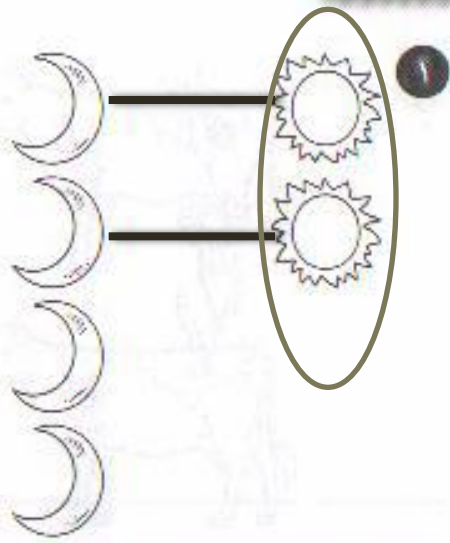
٦



٧



أكثر من ، أقل من



الفصل الثانى

الاعداد من ٠ الى ١٠

الاعداد ١ و ٢ و ٣

١٠٢

قراءة الاعداد ١ و ٢ و ٣
وكتابتها

١٠٢

العددين ٤ و ٥

١٠٢



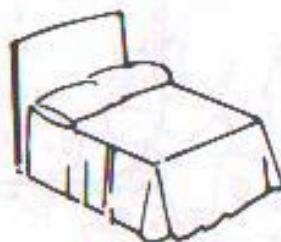

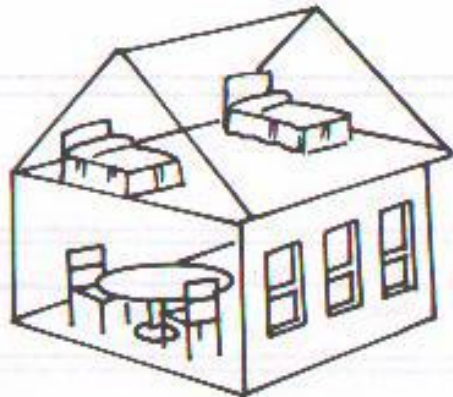
قراءة العددين ٤ و ٥ و
كتابتها

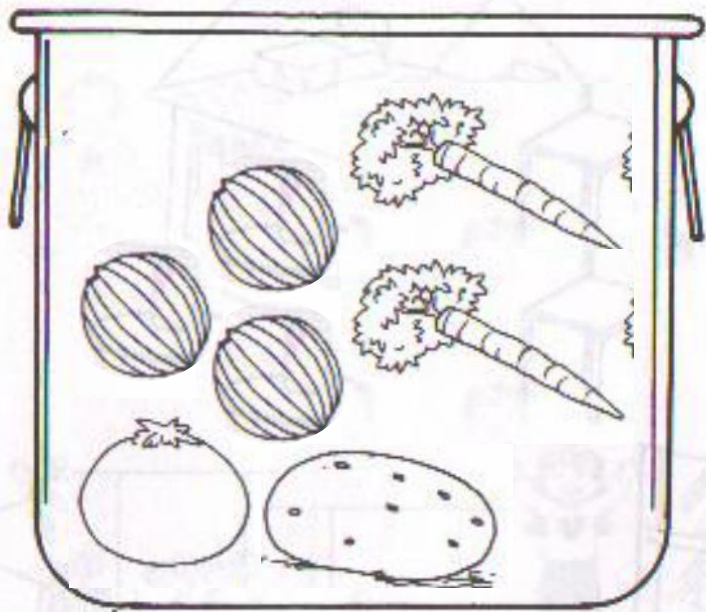
١٠٣

قراءة العدد صفر و كتابته

١٠٢

۱ و ۲ و ۳ و ۴





١



١



٣



٢




وكتابتها

٢ و ١ و ٣








العدادان ٤ و ٥



كتابتهم

قراءة العددين ٤ و ٥ و



قراءة العدد صفر و كتابته



١



٢



٤



١



٣



١



الفصل الثالث

الاعداد حتى ٢٠

فوق و تحت

١٠٦

أعلى و أوسط و أسفل

١٠٦

قبل و بعد

١٠٦

تحديد الأنماط

١٠٦

إنشاء الأنماط

١٠٥

إنشاء الأنماط

١٠٦

فوق و تحت

فوق








تحت



فوق





أعلى و أوسط و أسفل







فيل و بوع



١



٢




٣








١



٢



٣



انشاء الاتماط



١



٢



٣



٤



انشاء الاتماط



١



٢



٣



٤



الفصل الرابع

الجمع

الاعداد ٦ و ٧ و ٨

٣-١

قراءة الاعداد ٦ و ٧ و ٨ و
كتابتها

٣-١

العدان ٩ و ١٠

٣-٢

قراءة الاعداد ٩ و ١٠ و
كتابتها

٣-٣

مقارنة الاعداد حتى ١٠


٣-٥

ترتيب الاعداد حتى ١٠

٣-٤

العدد الترتيبي


٣-٨




١
٢
٣
٤
٥
٦
٧
٨
٩
١٠



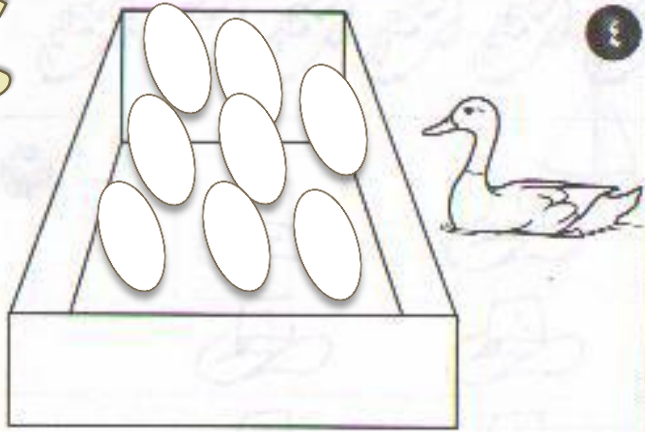
مكتبتها



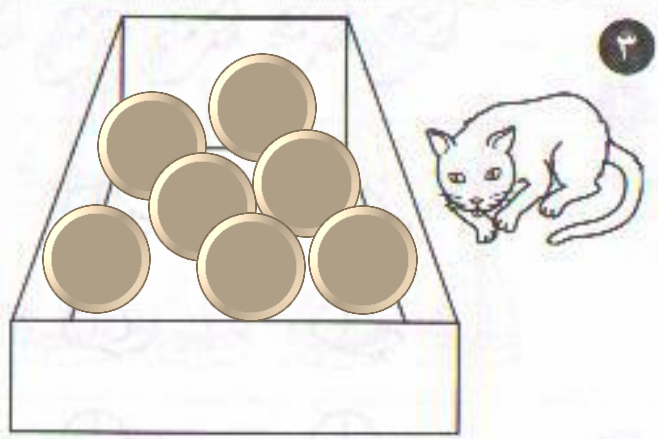
٦



٨



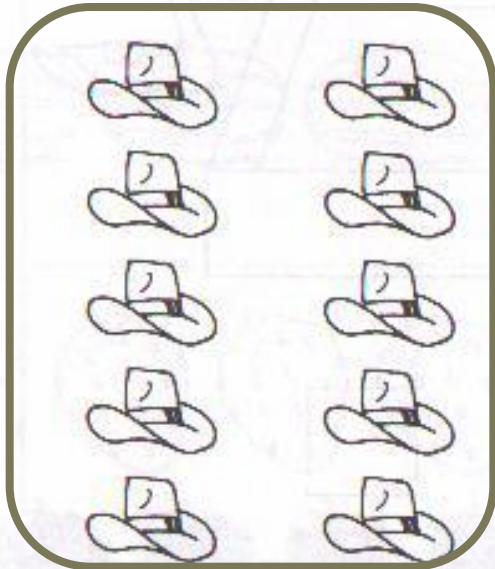
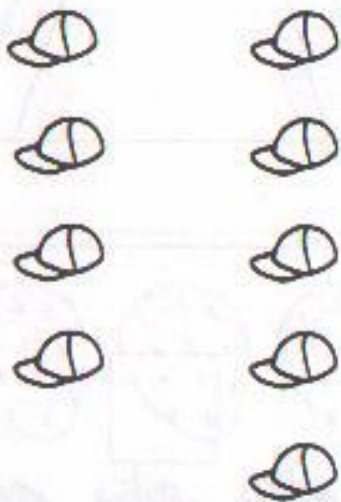

٨



٧

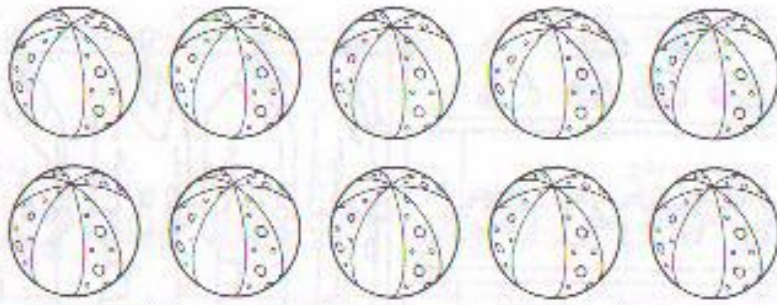


العدادان ٩ و ١٠




الكتابة

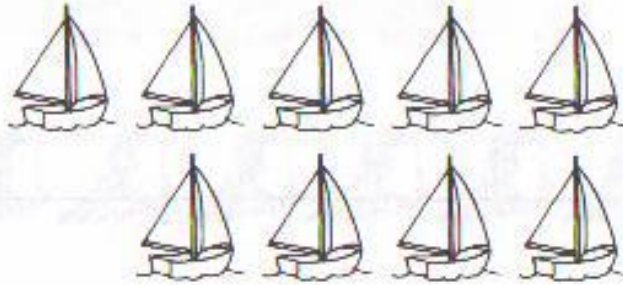
١٠٠ و ١٠٠٠ و ١٠٠٠٠



١



٢



٣



٤



مقارنة الأعداد حتى ١٠

١٠



١٠

٩



٧



٧

٤



٦



٦

٨



٥



٥

٩



تعداد را بنویس



١



٢




٣



٤





١

العدد الكمي



٢



٣



الفصل الخامس

الطرح

العددان ١١ و ١٢

١-٥

الاعداد ١٣ و ١٤ و ١٥

٢-٥

العددان ١٦ و ١٧

٣-٥

أحل المسألة : أبحث عن نمط

٤-٥

الاعداد ١٨ و ١٩ و ٢٠

٥-٥


مقارنة الاعداد حتى ٢٠

٦-٥

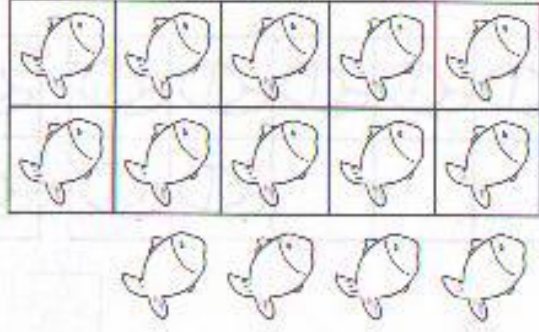
ترتيب الاعداد حتى ٢٠

٧-٥

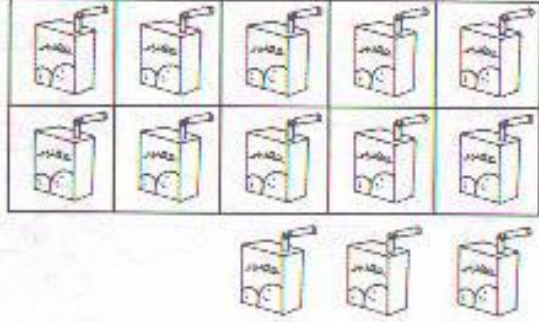
العدادان ١١ و ١٢



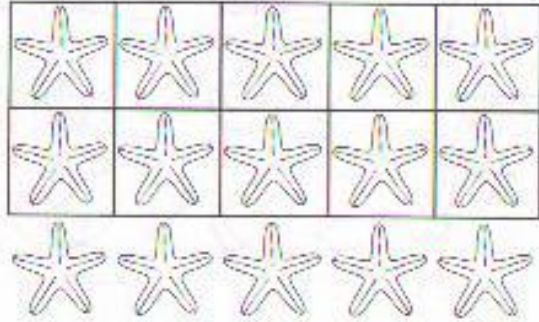
١٤ ١٤ ١٤



١٣ ١٣ ١٣



١٥ ١٥ ١٥

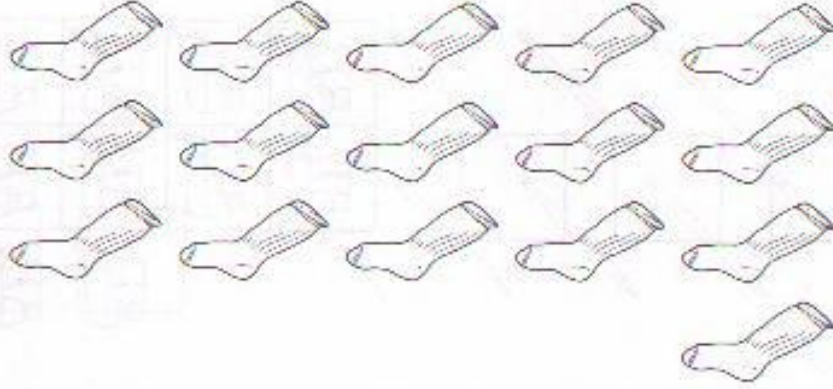


العدادان ١٦ و ١٧

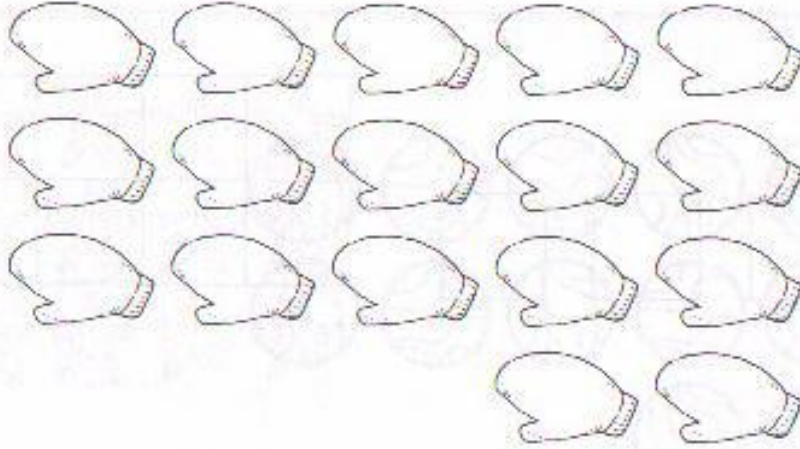


١٧

١٦

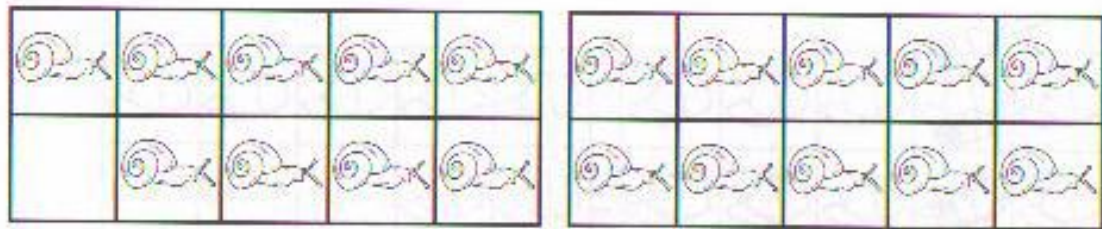


١٧

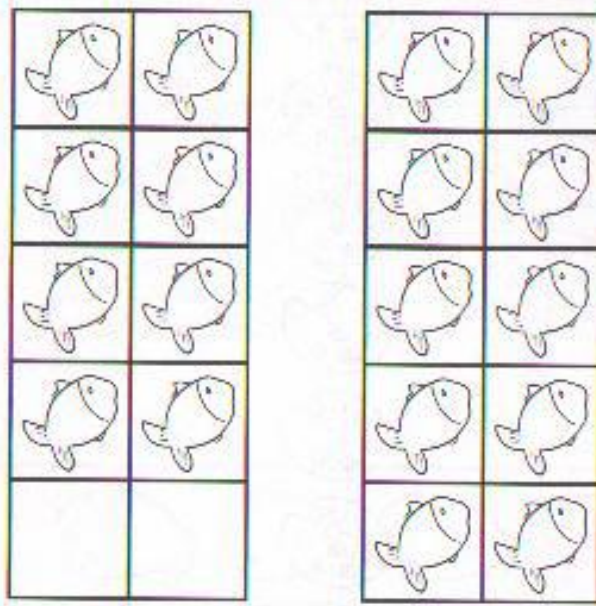


أحل المسألة : أبحث عن نمط





۱۹




۱۸



۲۰



مقارنة الأعداد حتى ٢٠



٢٠ ١٩ ١٨ ١٧ ١٦

١٧

١٢ ١١ ١٠ ٩ ٨

١١

٨

١٧ ١٥ ١٤ ١٣

١٦

١٤



الفصل السادس

الجمع

قُصص الجمع

١-٦

تمثيل الجمع

٢-٦

جمل الجمع

٣-٦

جمع الصفر

٤-٦

أحل المسألة : أمثلها

٥-٦

تكوين الاعداد ٤ و ٥ و ٦

٦-٦

تكوين الاعداد ٧ و ٨ و ٩

٧-٦


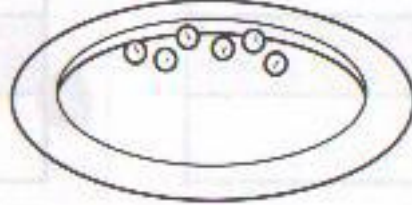
تكوين الاعداد ١٠ و ١١ و ١٢

٨-٦

الجمع الرأسى

٩-٦

قصص الجميع



١

٢

٣



تعمير المجموع

٦

جزء	جزء
○○○	●●●●●●
المكمل	
٩	

١

جزء	جزء
○	●●●●
المكمل	
٥	

٤

جزء	جزء
○○○○○	●●●
المكمل	
٨	

٣

جزء	جزء
○○○○○	●●
المكمل	
٦	

٧

جزء	جزء
○○○	●
المكمل	
٤	

٥

جزء	جزء
○○○○○	●●●
المكمل	
٨	



بعض الحشرات



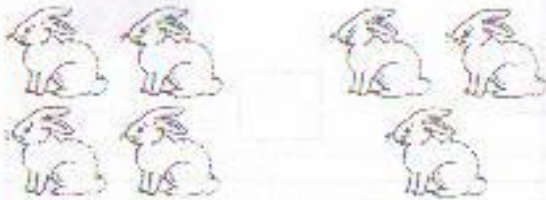
٦

$$5 = 2 + 3$$



٦

$$6 = 2 + 4$$



٧

$$7 = 4 + 3$$




٨

$$8 = 3 + 5$$



تدريبات
الاصغر



٦

$$\boxed{6} = 0 + 6$$



٨

$$\boxed{8} = 8 + 0$$



٧

$$\boxed{7} = 0 + 7$$



٤

$$\boxed{4} = 4 + 0$$

$$\boxed{3} = 0 + 3$$

٣

$$\boxed{0} = 0 + 0$$

٠

$$\boxed{1} = 0 + 1$$

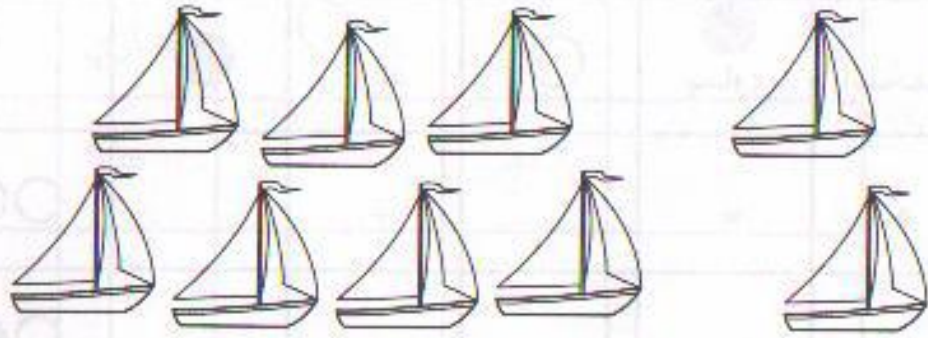
١

$$\boxed{9} = 9 + 0$$

٩



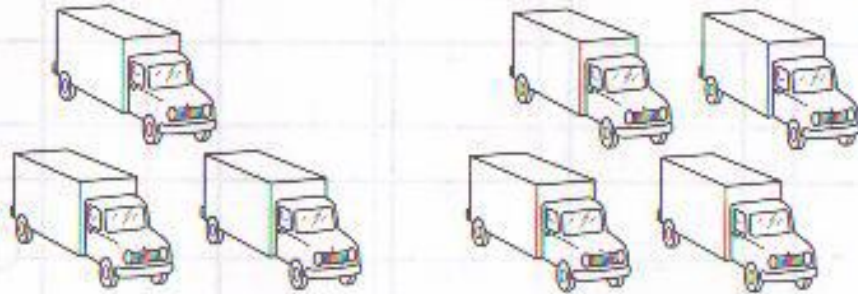
أول المسألة : أمثلها



=



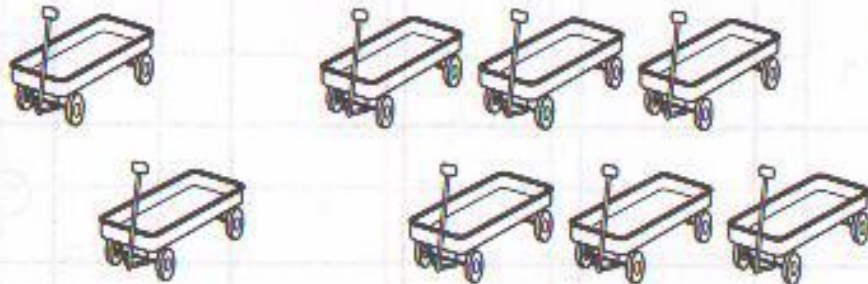
+



=



+



=



+



تكوين الأعداد ٤ و ٥ و ٦

المجموع	يساوي	○	زائد	●	
٥	=	٤	+	١	○ ○ ○ ○ ●
٥	=	١	+	٤	○ ● ● ● ●
٥	=	٣	+	٢	○ ○ ○ ● ●
٥	=	٢	+	٣	○ ○ ● ● ●
٦	=	٥	+	١	○ ○ ○ ○ ○ ●
٦	=	١	+	٥	○ ● ● ● ● ●
٦	=	٤	+	٢	○ ○ ○ ○ ● ●
٦	=	٢	+	٤	○ ○ ● ● ● ●
٦	=	٣	+	٣	○ ○ ○ ● ● ●




تكوين الأعداد ٧ و ٨ و ٩


المجموع	يساوي	○	زائد	●
٧	=	٤	+	٣
٧	=	٣	+	٤
٧	=	٢	+	٥
٧	=	٦	+	١
٨	=	٥	+	٣
٨	=	٤	+	٤
٩	=	٧	+	٢
٩	=	٦	+	٣
٩	=	٣	+	٦
٩	=	٤	+	٥



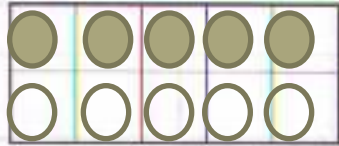
تكوين الأعداد ١٠ و ١١ و ١٢



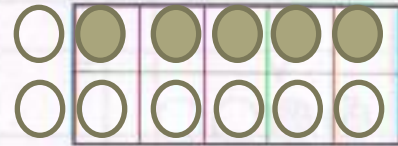
$$11 = 5 + 6$$



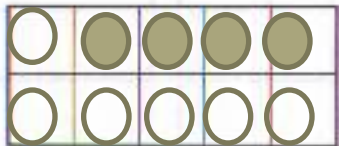
$$10 = 8 + 2$$



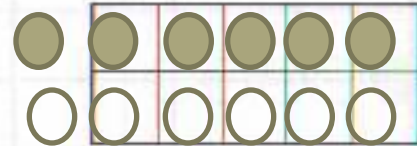
$$10 = 5 + 5$$



$$12 = 7 + 5$$



$$10 = 6 + 4$$



$$12 = 6 + 6$$



تقسيم

