








## Lesson 1

### Page 89

ten	عشرة	10
twenty	عشرون	20
thirty	ثلاثون	30
forty	أربعون	40
fifty	خمسون	50
sixty	ستون	60
seventy	سبعون	70
eighty	ثمانون	80
ninety	تسعون	90
one hundred	مئة	100
circle	دائرة	
square	مربع	
rectangle	مستطيل	
triangle	مثلث	
star	نجمة	
how many?	كم للعدد	

--	--	--

Lesson 2		
Page 90		
ten	عشرة	10
twenty	عشرون	20
thirty	ثلاثون	30
forty	أربعون	40
fifty	خمسون	50
sixty	ستون	60
seventy	سبعون	70
eighty	ثمانون	80
ninety	تسعون	90
a hundred	مئة	100
how far	كم يبعد (ب) (المسافة)	
What time is it?	ما هو الوقت ؟	
o'clock	ساعة	