

تلخيص الوحدة الثانية : الدرس الأول (تعرف على الكائنات الحية)

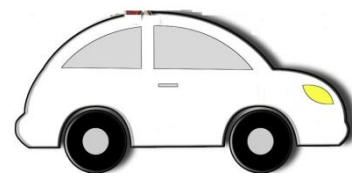
ضع إشارة (√) أمام العبارات الصحيحة وإشارة (x) أمام العبارات الخاطئة :

1. الكائنات الحية تنمو وتتغير ()
2. تحتاج النباتات إلى الماء فقط ()
3. الطاولة والكرسي من الكائنات الحية ()
4. الكائنات غير الحية لا تنمو ولا تتغير ()
5. لا يحتاج نبات دوار الشمس إلى الكثير من ضوء الشمس لكي يعيش ()
6. يحتاج نبات الأرز إلى الكثير من الماء ليبقى على قيد الحياة ()
7. يحتاج نبات الصبار إلى الكثير من الماء ليبقى على قيد الحياة ()

أي مما يلي لا يحتاج إليه النبات :



أي مما يلي يحتاج إليه النبات :



أي مما يلي يعتبر من الكائنات الحية .

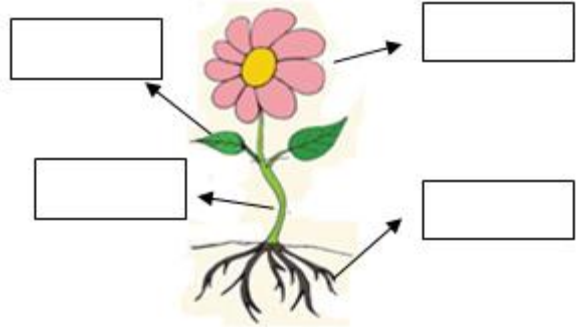
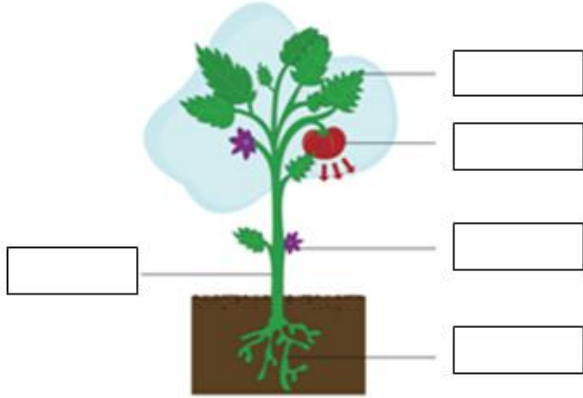


الوحدة الثانية : تلخيص درس الثاني (أجزاء النباتات)

أذكر أجزاء النبتة الرئيسية ؟

1. 2. 3.


ضع على الرسم أجزاء النبتة (ساق - ورقة - زهرة - جذور) :




حوِّط جزء النبات الذي يدل على الأوراق :



حوِّط جزء النبات الذي يدل على الساق :



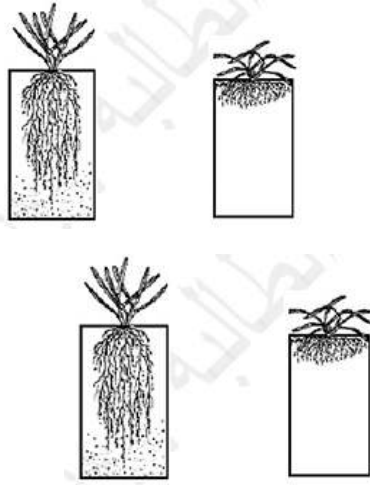
حوِّط جزء النبات الذي يدل على الجذور :



ضع إشارة (v) أمام العبارات الصحيحة وإشارة (x) أمام العبارات الخاطئة :

1. الجذور تثبت النبات في الأرض ()
2. الأوراق تستخدم ضوء الشمس والهواء لصنع الغذاء ()
3. ينتقل الغذاء والماء عن طريق الزهرة إلى الأجزاء الأخرى ()
4. النباتات تستطيع صنع غذاءها بنفسها ()

أي صورة تدل على جذور قريبة من سطح الأرض :



أي صورة تدل على جذور طويلة وعميقة :

اختر الإجابة الصحيحة فيما يلي :

- 1) النباتات لها تمتص الماء من التربة .
أ. أوراق
ب. جذور
ج. ساق
- 2) تحصل النباتات على من التربة :
أ. المواد الغذائية
ب. الثمار
ج. الضوء
- 3) تقوم بحمل النبات :
أ. الأوراق
ب. الجذور
ج. الساق
- 4) تقوم بتهيئة النبات في الأرض :
أ. الأوراق
ب. الجذور
ج. الساق

الوحدة الثانية : تلخيص الدرس الثالث (نباتات مختلفة)**# ضع إشارة (v) أمام العبارات الصحيحة وإشارة (x) أمام العبارات الخاطئة :**

1. كل النباتات متشابهه ()
2. يسمى ساق النبات السميكة باسم الجذع ()
3. يعتبر العشب من النباتات المرتفعة ()
4. نستطيع أكل ثمار النباتات فقط ()
5. الجزر يعتبر جذر نبتة نستطيع أكله ()

اختر الإجابة الصحيحة فيما يلي :

- 1) عندما تأكل جوز الهند فإنك تأكل نبتة.
أ. أوراق ب. بذرة ج. ساق
- 2) عندما تأكل القرعة فإنك تأكل جزءاً من نبتة.
أ. أوراق ب. بذرة ج. ساق
- 3) عندما تأكل الخس فإنك تأكل نبتة.
أ. أوراق ب. جذور ج. ساق
- 4) عندما تأكل الجزر فإنك تأكل نبتة:
أ. أوراق ب. جذور ج. ساق
- 5) أي جزء من أجزاء النبات يحمل النبتة :
أ. الأوراق ب. الجذور ج. الساق