

المادة : علوم

التاريخ : 8 / 11 / 2017

الموضوع : السلسلة الغذائية

ورقة عمل رقم (8)



العام الدراسي 2017-2018  
الفصل الدراسي الأول

دولة الإمارات العربية المتحدة

دائرة التعليم والمعرفة

الإسم : .....  
الصف : ..... الشعبة :

**مؤشرات الأداء : 1- أن يتعرف مفهوم السلسلة الغذائية .**

**2- أن يستنتج ترتيب الكائنات الحية في السلسلة الغذائية .**

**3- أن يكوّن سلسلة غذائية صحيحة.**

السؤال الأول : أختار الإجابة الأكثر دقة :

1- نطلق على المكان الذي تعيش فيه الحيوانات والنباتات معا اسم؟

أ- الصحراء      ب- سلسلة غذائية      ج- موطن بيئي

2- نموذج تترتب فيه الكائنات الحية حسب طريقة الحصول على الغذاء؟

أ- مفترس      ب- سلسلة غذائية      ج - الكائنات الحية

3- تسمى الحيوانات التي تصطاد الحيوانات الأخرى؟

أ- سلسلة غذائية على اليابسة      ب- فريسة      ج- مفترس

4- يطلق على الحيوانات التي تصطادها الحيوانات المفترسة؟

أ- الموطن البيئي      ب- موطن بيئي مائي      ج - مفترس

5- عبارة عن اثنتين أو أكثر من السلاسل الغذائية المرتبطة ببعضها ؟

أ- العوالق      ب- سلسلة غذائية في الماء      ج- الشبكة الغذائية

6- يختبئ السنجاب والأفعى في مكان يسمى ؟

أ- موطن بيئي      ب- جحر      ج- شبكة غذائية

السؤال الثاني: أرتب السلسلة الغذائية ؟



أَسَدٌ



نَبَاتٌ




شَمْسٌ



أَرْتَبٌ

السؤال الثالث: 1- أختار رقم الحيوان الصحيح لأكمل السلسلة الغذائية ؟



2- أتأمل السلسلة الغذائية السابقة وأجب :

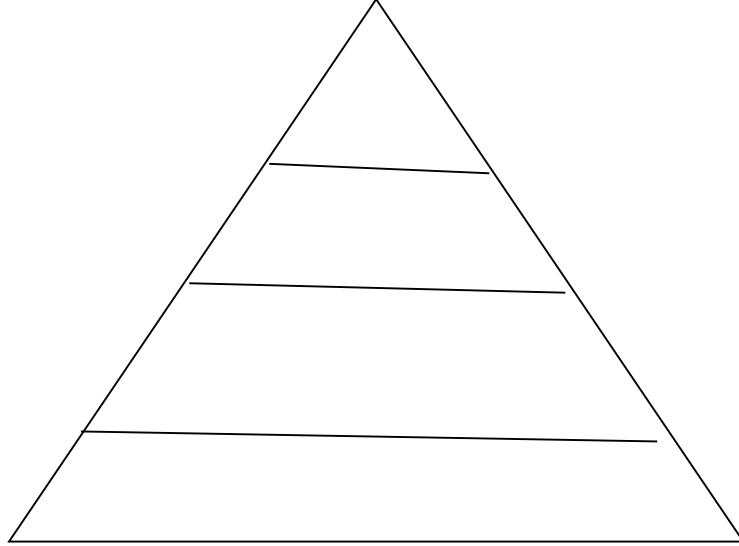
برأيك ماذا سيحصل للأفاعي الموجودة في الحقل لو ماتت جميع الفئران ؟

.....

.....

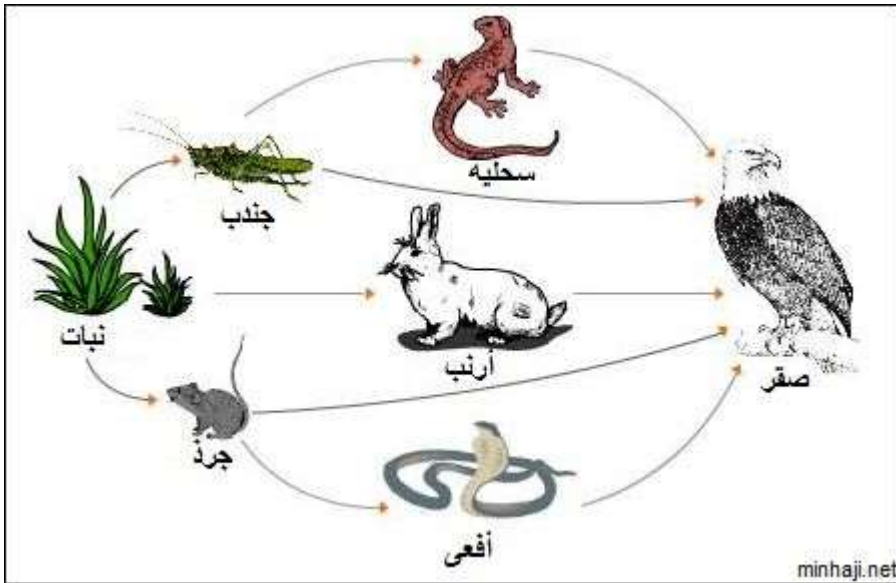
السؤال الرابع:

أرتب السلسلة الغذائية ضمن تسلسل هرمي؟



السؤال الخامس

أتمعن صورة الشبكة الغذائية وأذكر بعض السلاسل الموجودة فيها؟



.....

.....

.....

.....

أتعرف على كل سلسلة غذائية ثم أقص وأصق في دفترتي العلوم

