

المادة : رياضيات
الاسم :
الصف : الأول / الشعبة
معلمه المادة : هند كامل وصفاء خير




دولة الإمارات العربية
المتحدة
دائره التعليم والمعرفه
مدرسة الرؤية الخاص-


ورق عمل رياضيات الفصل الدراسي الثاني العام الدراسي 2018-2019

أكتبي كل عدد حوطي حول أكبر، أو أصغر من أو تساوي؟

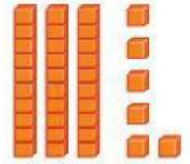


أكبر من
أصغر من
تساوي





أكبر من
أصغر من
تساوي



قارني . أكتبي ، > ، < أو =

$17 \bigcirc 83$

$34 \bigcirc 72$

$50 \bigcirc 12$

$10 \bigcirc 10$