

مراجعة الوحدة التاسعة علوم

السؤال الأول: اختر/اخترى الإجابة الصحيحة:

1- القوة التي تجذب الأشياء باتجاه الأرض؟

الاحتكاك الجاذبية الدفع

2- أي من الآتي هو قوة السحب؟

التقاط الكرة رمي الكرة فتح الدرج

3- أي من الآتي الآلات البسيطة؟

الجاذبية الصوت الرافعة

4- القوة التي تبطئ حركة الأشياء؟

الدفع الاحتكاك الاهتزاز

5- يجذب المغناطيس الأشياء المصنوعة من ؟

المعدن البلاستيك المطاط

6- الأداة التي يمكن ان تسهل تحريك الأشياء؟

الاله البسيطة الموقع الحركة



7- صف كيف تتحرك هذه الأرجوحة؟

تدور في خط متعرج في خط مستقيم



السؤال الثاني: ارسم/ي شكل من اشكال المغناطيس.

السؤال الثالث: حوطي علي صورهِ الدفع ○ , وضع إشارة ✓ على صورة السحب.

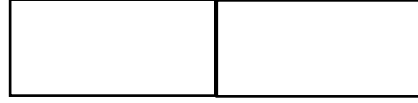


السؤال الرابع: لون/ي اقطاب المغناطيس لتناسب المطلوب؟

تجاذب



تنافر



السؤال الخامس: حوطي على الأشياء التي لا يجذبها المغناطيس.

