


(مراجعة الوحدة 8: أماكن صالحة للعيش)

المهارة: الملاحظة - التصنيف



1. أي من الحيوانات التالية تعيش فيه هذه البيئة




سمكة




كلب البراري




جمل



2. أي من الحيوانات التالية تعيش فيه هذه البيئة




الظربان



البقرة



أسد البحر




3. أي من الحيوانات التالية تعيش فيه هذه البيئة



القندس



الراكون




حوت

(مراجعة الوحدة 8: أماكن صالحة للعيش)

المهارة: الملاحظة - التصنيف



4. أي من الحيوانات التالية تعيش فيه هذه البيئة



جمل




أسد البحر




الراكون


5. أي من الحيوانات التالية منقرضة



نحلة



ماموث



البقرة

6. من أسباب تغير الموطن البيئي



قطع الأشجار



(مراجعة الوحدة 8: أماكن صالحة للعيش)

المهارة: الملاحظة - التصنيف

7. من أسباب تغير الموطن البيئي



8. من مظاهر التكيف الذي يساعد الراكون على تسلق الأشجار




أذنه الطويلة

مخالبه حادة

ذيله طويل

9. من مظاهر التكيف التي تساعد الزرافة على رصد الحيوانات المفترسة



أسنان حاد

عين كبيرة

رقبة طويل

(مراجعة الوحدة 8: أماكن صالحة للعيش)

المهارة: الملاحظة - التصنيف



10). مأوى الظربان هو

الحفرة

جذع الشجرة

محيط




11) يساعد النحل النباتات على

هجرة

انقراض

إنتاج نبات جديد



12) تستخدم العنكبوت النباتات ل.....

لشرب منها

لحمل نسيجها

لأكلها

13) من أكبر المواطن البيئية على سطح الأرض

البحيرة

الغابة

المحيط

إعداد المعلمة : سارة قاسم