

مدرسة الإمارات الخاصة - العين

**EMIRATES**

PRIVATE SCHOOL - AL AIN

www.epsalain.com

**WE**

Established in 1982

نمتلك التاريخ ... ونستشرف المستقبل  
have a long educational history and  
look forward to a better future



**EPS**  
AL AIN

تطور، فهم، ريادة، دوام



**مادة**

**التربية الوطنية**

المنهاج الإماراتي

إسم الطالب:

حقوق الطباعة والإعداد والنشر لمدرسة الإمارات الخاصة بالعين



س1- أكمل العبارة بالكلمة المناسبة مما بين القوسين :

( حب الوطن – 2008 – تقديم القهوة والتمر – العلم – اللهجة )

1- العام الذي أطلق عليه عام الهوية الوطنية في دولة الإمارات  
العربية المتحدة عام .....

2- الهوية هي الشيء الذي يدل على الفرد ، مثل :

اللباس ، ..... ، .....

3- الهوية الوطنية هي الانتماء للأرض و .....

4- من آداب إكرام الضيف عند أهل الإمارات:

أ/ .....

ب/ .....

س2- اكتب الواجبات التي يجب أن يحافظ عليها صاحب بطاقة الهوية.

1- .....

2- .....

3- .....

س3- صل الصورة بما يناسبها:

جواز السفر



خلاصة القيد



شهادة الميلاد



بطاقة الهوية



## س1- صل الصورة بالعبارة المناسبة :



مناطق  
يكثر فيها السكان



مناطق  
يقل فيها السكان



## س2- انظر الى الخريطة ثم أكمل :



- 1- عاصمة دولة الإمارات هي .....
- 2- يتركز السكان بالدولة في .....
- 3- يتكون السكان في الدولة من .....
- 4- أسباب الزيادة السكانية في دولة الإمارات :

- .....\*
- .....\*
- .....\*
- 5- من مشكلات الازدحام السكاني:
- .....\*
- .....\*

**س1- ميّز المعالم القديمة من الحديثة فيما يأتي بكتابة كلمة  
( قديمة أو حديثة ) تحت الصورة :**



.....

.....



.....

.....

## س2- هناك أيضا معالم أخرى في بلادي مثل :

- ..... \*
- ..... \*
- ..... \*


## س3- صل الصورة بما يناسبها :



قلعة الجاهلي



مسبار الامل



جزيرة المرجان

أولاً : اكتب الكلمة المناسبة تحت الصورة والتي تدل على أهمية المياه :



.....

.....





.....

ثانياً : صنف الكلمات الآتية وفق الجدول :

( عين المبرزة - مياه الخليج العربي - وادي الوريعة - عين خت )

مياه باطنية	مياه سطحية
.....	.....
.....	.....

**ثالثًا: اكتب أمام كل صورة استخدام الماء فيها**

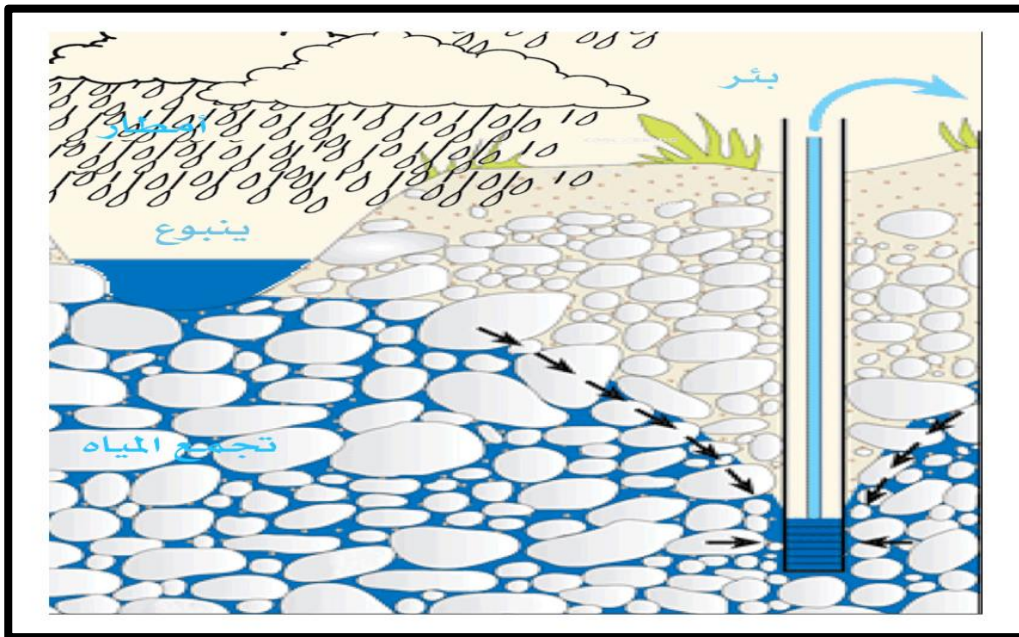


**رابعاً: من خلال الصورة التالية اكتب خطوات تخزين المياه الجوفية**

.....-1

.....-2

.....-3



**خامساً: كيف تحافظ على المياه العذبة؟**

.....-1


.....-2

.....-3

## الطاقة في بلادي

(الطاقة هي القدرة على الحركة و أداء العمل )

أولاً : تتنوع مصادر الطاقة ومنها :



## الطاقة في بلادنا



### ثانياً : صنف مصادر الطاقة الآتية حسب الجدول :




المياه - النفط - الفحم - الشمس - الغاز الطبيعي - الرياح

طاقة غير متجددة	طاقة متجددة
.....	.....
.....	.....
.....	.....

### ثالثاً: ضع علامة (√) أمام العبارة الصحيحة وعلامة (x) أمام العبارة الخطأ:

- 1- السيارات الكهربائية تمنع حدوث التلوث. ( )
- 2- مدينة مصدر منتجة للطاقة الشمسية المتجددة. ( )
- 3- تقع مدينة مصدر في إمارة رأس الخيمة . ( )
- 4- يوجد في مدينة مصدر مساكن وشركات ومدارس حديثة. ( )

## رابعاً: اكتب اسم نوع الطاقة المتجددة تحت كل صورة:




## ثروات بلادي

أولاً: صنف أسماء الصور التالية وفق الجدول الآتي :

الرمان



الجزر



التفاح



الفلفل



العنب



الطماطم



الفواكه	الخضراوات
.....	.....
.....	.....
.....	.....

التربية الوطنية / الصف الثاني

## ثروات بلادي

ثانياً: أكتب أسماء بعض الحيوانات التي تربى في بلادي :

..... ، .....

..... ، .....

ثالثاً : أكتب أسماء بعض أنواع الأسماك التي تعيش في بحار بلادي :

..... ، .....


..... ، .....

رابعاً: صل الصورة بما يناسبها :






فواكه



خضروات



## خامساً: أكتب أسماء الحيوانات التي تربي في دولتي أسفل كل صورة:

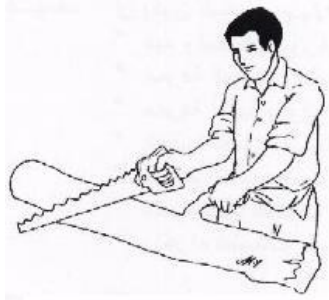


التربية الوطنية / الصف الثاني




## المهن في بلادي

( المهنة هي عمل يحتاج إلى تدريب و مهارة )

س1- اكتب اسم المهنة تحت الصورة :



**س2- اكتب اسم المهنة أسفل كل صورة مما يلي :**



**س3- ضع علامة (√) أمام الجملة الصحيحة وعلامة (x) أمام الجملة الخاطئة :**

- 1-أقول شكرا لمعلمتي عندما تقدم لي النصيحة . ( )
- 2-ألقي النفايات في الشارع لأن عامل النظافة سيجمعها. ( )
- 3-أحرص على استذكار دروسي لأنني أحب وطني. ( )
- 4-عندما أطلب مساعدة عامل النظافة أقول له من فضلك. ( )
- 5-أصعد إلى الحافلة دون السلام على السائق. ( )

**س4- عبر بالرسم عن المهنة التي تتمناها في المستقبل :**



التربية الوطنية / الصف الثاني

## الصناعة في بلادي

تقسم الصناعات إلى نوعين : تقليدية و حديثة

س1- أميز فيما يلي الصناعة التقليدية من الحديثة بكتابة كلمة ( تقليدية أو حديثة) تحت الصورة :



## س2- اكتب أسماء أربع صناعات تقليدية في دولة الإمارات العربية المتحدة.

1- .....

2- .....

3- .....

4- .....

## س3- اكتب أسماء أربع صناعات حديثة في دولة الإمارات العربية المتحدة.

1- .....

2- .....

3- .....

4- .....

## س4- اكتب أكبر عدد من مسميات الصناعات التي يدخل فيها الألومنيوم .

.....

.....

.....

.....

.....