



النموذج التدريبي لمادة الرياضيات الفصل الدراسي الثالث الصف الأول

إدارة التقييم والامتحانات

2017
1438



الهدف

تهيئة الطلاب لتطبيق الامتحانات



إرشادات

1. الاطلاع على النماذج التدريبية مسبقاً .
2. إمكانية توليد نماذج تدريبية على نمط النماذج المرفقة .
3. توظيف جهاز العرض في التدريب .
4. تنفيذ المفردات التدريبية بصورة فردية أو جماعية .
5. إنجاز التدريب ضمن الوقت المخصص قبل بداية الامتحان .



المفردات التدريبية:

1) قارن بين القلم وعلبة الصمغ



★ علبة الصمغ أطول

★ القلم أطول

★ متساويان في الطول


2) قطف خالد ثمرة فاصوليا طولها 7 مكعبات. وقطف أيمن ثمرة فاصوليا طولها مكعبان. كم يزيد طول الثمرة التي قطفها خالد؟



على الساعة الرقمية.




3) اكتب الوقت






تابع المفردات التدريبية:

4) تبدأ حصة الألعاب الرياضية في تمام الساعة 9:30 وتنتهي بعد ساعة.
في أي ساعة تنتهي حصة الألعاب الرياضية؟ (اكتب الوقت. ارسم العقارب على الساعة)



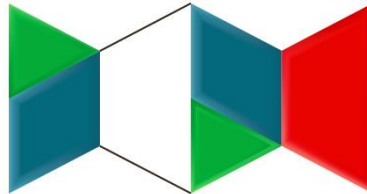
5) مع رشيد شكل له 4 أضلاع بنفس الطول و 4 رؤوس. ومحمد معه شكل له 3 أضلاع و 3 رؤوس.
ضع خطأً تحت الشكلين .



6) اكتب عدد الأجزاء المتساوية في الشكل .



7) كونت خولة هذا الشكل .
ضع خطأً تحت الشكل الناقص .

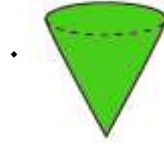


7) كونت خولة هذا الشكل .





تابع المفردات التدريبية :

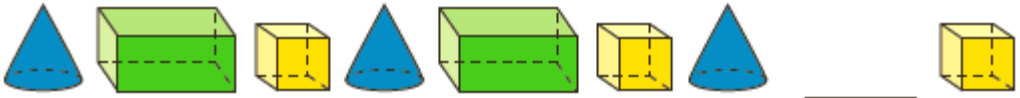


8) اكتب عدد الأوجه والرؤوس للشكل

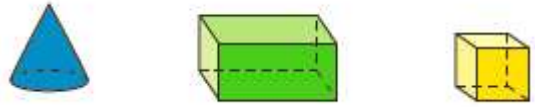
عدد الأوجه : _____

عدد الرؤوس : _____

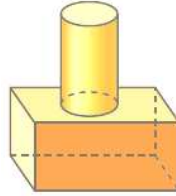
9) كوّنت ميثاء هذا النمط.



ضع خطأً تحت الشكل الناقص .



10) لديك الشكل المركب . أكمل الفراغ فيما يأتي :



عدد أوجه  هو _____ وعدد أوجه  هو _____





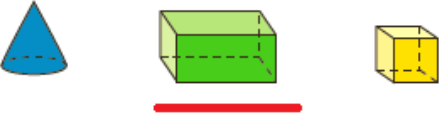


وإجمالي عدد أوجه الشكل المركب هو _____ أوجه .

انتهى التدريب

بالتوفيق والنجاح



إجابة المفردات التدريبية:

الإجابة	رقم المفردة
القلم أطول	1
5	2
	3
 <u>10:30</u>	4
	5
4	6
	7
عدد الأوجه: 1 عدد الرؤوس: 1	8
	9
عدد أوجه  هو <u>6</u> عدد أوجه  هو <u>2</u> عدد أوجه الشكل المركب هو <u>8</u>	10

انتهت الإجابة