



الاختبار الأول من الفصل الدراسي الأول لمادة العلوم للصف الأول الأساسي

20

أولاً : صلي بين العبارة وما يناسبها .

السؤال الأول :



الأشياء الغير حية

الأشياء الحية

4

ثانياً : صلي جزء النبتة بما يناسبها من الجمل .

❖ تمتص الجذور الماء والمواد المغذية من التربة .



❖ تحمل النبتة وتنقل الماء والمواد المغذية إلى كافة أجزائها

❖ تنتج الثمار التي تحمل البذور

❖ تستعمل الضوء والهواء والماء لتنتج الغذاء .

4

ثالثاً : ضعي علامة (١) أسفل كل جذر نأكله .




2

السؤال الثاني :

أولاً : ماذا تحتاج هذه النبتة لكي تعيش ؟

لونى الكلمة المناسبة ؟



تربة

عصير

ماء


ضوء

طعام

هواء

ثانياً : اكتبى الأجزاء التالية على النبتة .

ساق - أوراق - أزهار - جذور



ثالثاً : أي شكل لا يظهر كائناً حي ؟



النبتة

الكرة

النحلة

الفراشة

A. فراشة

B. نحلة

C. كرة

D. نبتة