

الاختبار التحريري القصير الأول - الفصل الدراسي الثاني

20

الإسم: الصف: الأول /

ضعي دائرة على الشيء المطلوب في المربع (درجات)



طقس
حار



طقس
ثلجي



سحاب
الفرع



ماذا يحدث
في الربيع؟



مطر






ماذا يحدث
في الخريف؟

ارسمي ما يوجد في السماء بكل صورة حسب لباس الطفلين



أوجدي الترابط بين الأشياء التالية بكتابة الرقم أسفل الصورة

			1 - الضوء
.....	2 - المنقار
			3 - الصوف

صلي الصورة حسب نوعها (4 درجات)



المواد المصنعة

الموارد الطبيعية

الاختبار التحريري القصير الثاني - الفصل الدراسي الثاني




الإسم: الصف: الأول /

ضعي دائرة على الشيء المطلوب في المربع (8 درجات)

الليل و النهار المطر الرياح ماذا يسبب دوران الأرض حول نفسها؟



بماذا ترى الكواكب والنجوم



ظل يتكون وقت الظهر



أقرب نجم لكوكب الأرض

صلي اسم وجه القمر لشكله (3 درجات)



الربيع الأول

محاق

بدر

صلي صورة الطقس للكلمة التي تدل عليه (3 درجات)



مشمس



عاصف

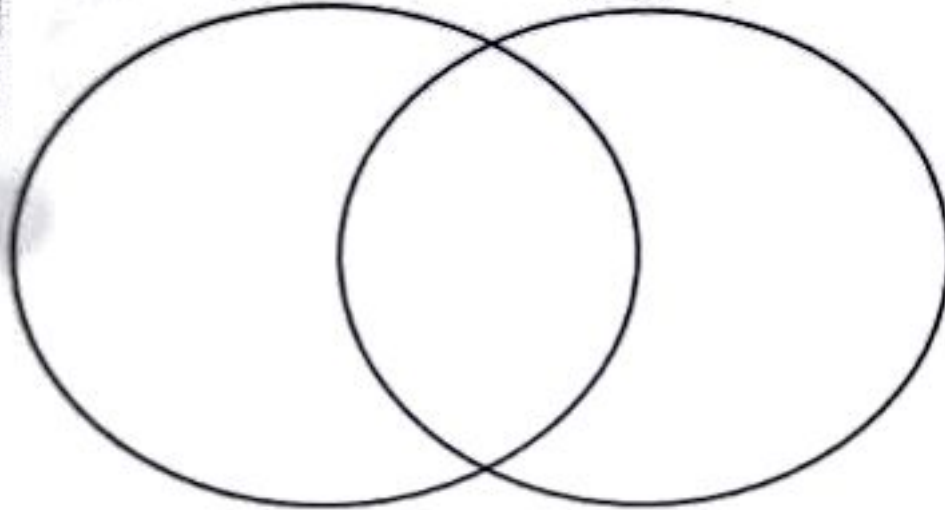


ممطر

أكتبي الأرقام في أماكنها الصحيحة (4 درجات)

الليل

النهار



(1) القمر

(2) السحب

(3) الشمس

(4) النجوم

أكتبي الرقم 1 أسفل مقياس الرياح . 2 أسفل الترمومتر .

3 أسفل دوازة الرياح . 4 أسفل مقياس المطر (4 درجات)

