

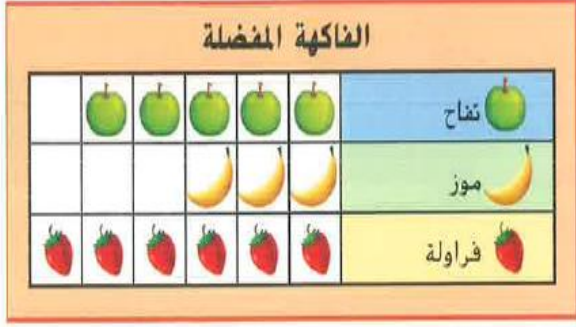
اختبار رياضيات للصف الأول الأساسي في مهارات الفصل الدراسي الثالث

20

5

السؤال الأول : استخدمي التمثيل البياني المصور في الإجابة عن الأسئلة التالية.

1 - ما عنوان التمثيل البياني المصور ؟



2 - كم شخصًا شارك في استطلاع الرأي ؟

3 - كم شخصًا يحب الفراولة ؟

4 - ما الفاكهة التي حصلت على 5 أصوات ؟

5 - بكم يزيد عدد من اختاروا التفاح عن من اختاروا الموز ؟

4

السؤال الثاني : استخدمي جدول العلامات في الإجابة عن الأسئلة التالية .

الأشكال التي أراها	العدد بالرموز	الشكل
		مربع
		مثلث
		دائرة

1 اکتبي الإجمالي في جدول العلامات .

2 - كم عدد المربعات ؟

3 - أي أشكال لها العدد الأكثر ؟

4 - ما أقل الأشكال عددًا ؟

السؤال الثالث : ارسمي عقرب الدقائق لعرض الوقت . اکتبي الوقت على الساعة الرقمية .

4



إعداد المعلمة : سنية مصطفى توفيق ----- مدرسة التميميد للتعليم الأساسي والثانوي للبنات

إضغط هنا قناة ملفات رياضيات أول 1

السؤال الرابع : ظللي الإجابة الصحيحة فيما يلي.

1 - أي ساعة تظهر الساعة 8 ؟

8 :30

7 : 30

8 :00

9 :00

2 - شكل له 3 أضلاع و 3 رؤوس

مربع

مستطيل


مثلث

شبه منحرف

3 - حوطي الجسم الأقصر من قلم الرصاص

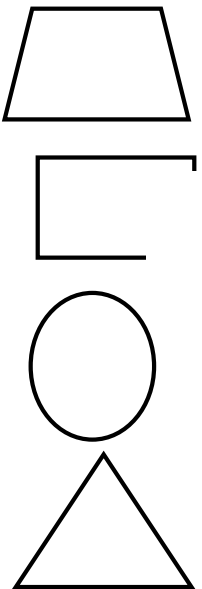


4 - شكل له 0 أضلاع و 0 رؤوس



السؤال الخامس: ارسمي الشكل وأكتبي اسمه .

أنا شكل ثنائي الأبعاد لدي 4 رؤوس
وكل أضلاعي لها نفس الطول
فأي شكل أنا ؟



السؤال السادس: صلي الكلمة بما يناسب .

◆ مثلث

◆ شبه منحرف

◆ شكل مفتوح

◆ دائرة