



اختبار الأول من الفصل الدراسي الثالث لمادة الرياضيات للصف الأول الأساسي

10

5

السؤال الأول : استخدم التمثيل البياني . أجب عن الأسئلة التالية .

عصيرا لفاكهة المفضل	
عصير التفاح	
عصير البرتقال	
عصير الجزر	
عصير الفراولة	

كل



يمثل تلميذاً واحداً .

■ كم شخصاً اختارَ عصير التفاح ؟ -----

■ أي عصير فاكهة هو الأكثر تفضيلاً عند معظم التلاميذ ؟ -----

■ ما عدد التلاميذ الذين يفضلون عصير الفراولة ؟ -----

■ عدد التلاميذ الذين يفضلون عصير الجزر هو أكثر من عدد

التلاميذ الذين يفضلون عصير البرتقال بـ -----

■ كم شخصاً شارك في استطلاع الرأي ؟ -----

❖ السؤال الثاني : حوّل الإجابة الصحيحة

الفصل المفضل		
الإجمالي	العدد بالرموز	الفصل
	II IIII	الصيف 
	IIII IIII	الخريف 
	IIII	الربيع 















1- كم شخصًا يحب الخريف ؟

a) 10

b) 9

c) 4

d) 7

الفاكهة المفضلة	
     	فراولة 
   	برتقال 
	تفاح 

2- كم يزيد عدد من اختاروا البرتقال عن من اختاروا التفاح ؟

a) 3

b) 5

c) 6

d) 1




لون التفاح المفضل		
اللون	العدد بالرموز	الإجمالي
أحمر 	I	1
أصفر 	IIII	3
أخضر 	II	2

3- ما نوع التمثيل البياني التالي ؟

a) جدول العلامات

b) تمثيل بالأعمدة

c) تمثيل بالصور

ما نحب عمله	
	ممارسة الألعاب
	قراءة كتاب
	الرسم

0 1 2 3 4 5 6

4 - كم طالبًا يُحب قراءة الكتب ؟

a) 5

b) 2

c) 3

d) 4

5 - ما قيمة علامة العد (  )

a) 7

b) 6

c) 8

d) 5