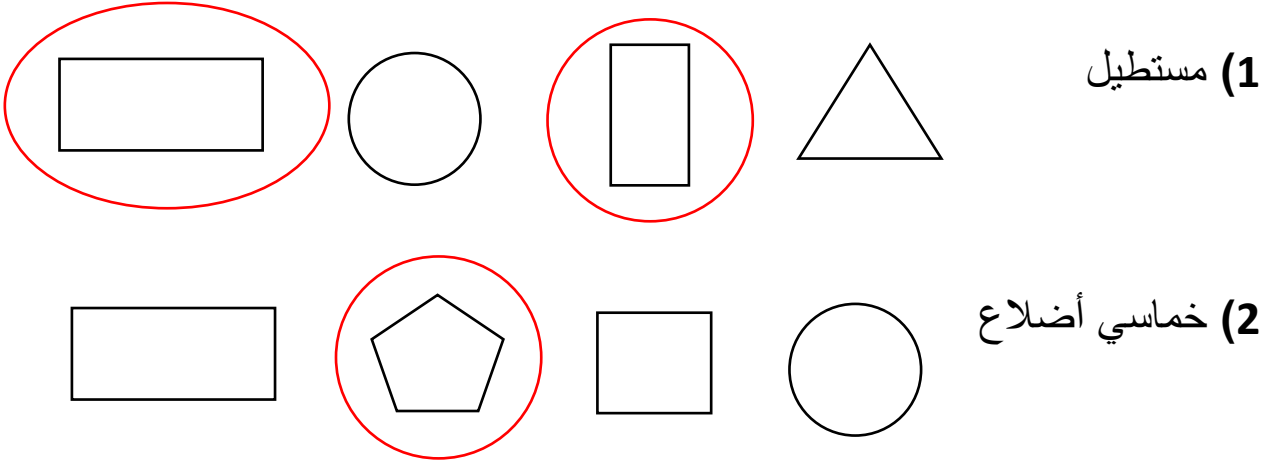


Mathematics

أوراق مراجعة الفصل الثالث في مادة الرياضيات

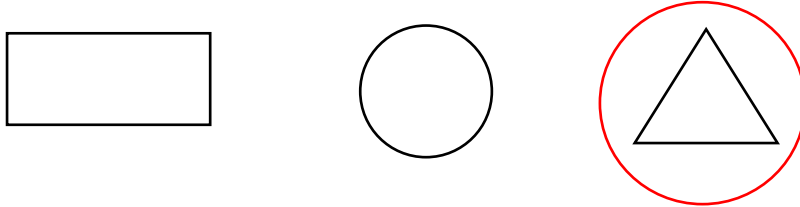
الصف: ثاني إماراتي
الإسم: _____

س1: ارسم دائرة حول الأشكال المطابقة للاسم :-

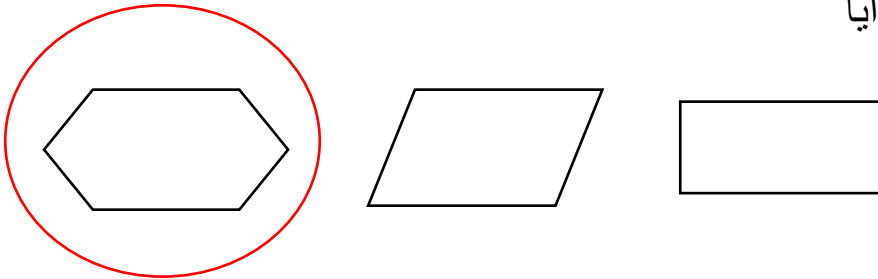


س2: ارسم دائرة حول الشكل المطابق للوصف :-

(1) 3 أضلاع و 3 زوايا



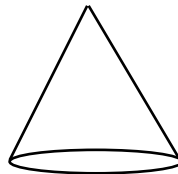
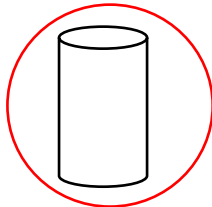
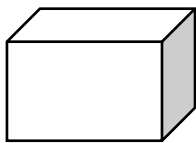
(2) 6 أضلاع و 6 زوايا



(3)

معلمة المادة:

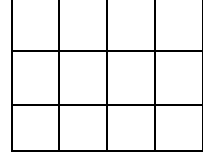
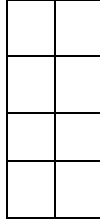
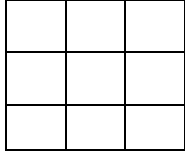
أ/ فادية حمود



شعارنا : تطوير قائم على الفهم لنكون الأنموذج الرائد على الدوام

Our Motto: Development based on understanding to be the perfect pioneering model.

س3: عدّ المربعات ، كم عدد المربعات التي تكون كل مستطيل :-

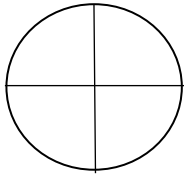


9 مربعات


8 مربعات

12 مربعات


س4: صف الأجزاء المتساوية، اكتب نصفين أو أثلاث أو أرباع:-



أرباع

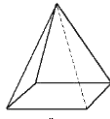


أثلاث



نصفين

س5: صل بين الجسم و اسمه :-



مكعب




هرم



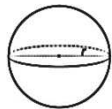
مخروط



منشور مستطيل



إسطوانة



كرة

معلمة المادة:

أ/ فادية حمود

شعارنا : تطوير قائم على الفهم لتكون الأنموذج الرائد على الدوام

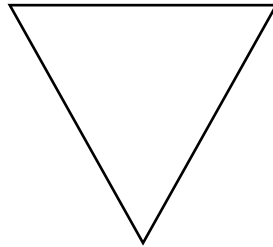

Our Motto: Development based on understanding to be the perfect pioneering model.

س6: أكمل كلاً من العبارات التالية :-

الوجه ، الضلع ، الرأس ، سداسي أضلاع ، مثلث

- (1) الوجه هو سطح مستو .
- (2) الرأس هو مكان التقاء 3 وجوه أو أكثر .
- (3) الضلع هو مكان التقاء 2 من الوجوه .
- (4) مثلث له 3 أضلاع و3 زوايا .
- (5) سداسي أضلاع له 6 أضلاع و 6 زوايا .

س7: تتبع الأشكال واكتب عدد الأضلاع والزوايا :-



أضلاع 0
زوايا 0

أضلاع 3
زوايا 3

أضلاع 4
زوايا 4


معلمة المادة:

أ/ فادية حمود

شعارنا : تطوير قائم على الفهم لتكون الأنموذج الرائد على الدوام

Our Motto: Development based on understanding to be the perfect pioneering model.

س8: ارسم دائرة حول الوحدة الأفضل للقياس :-



كوب لتر



كوب لتر



كوب لتر



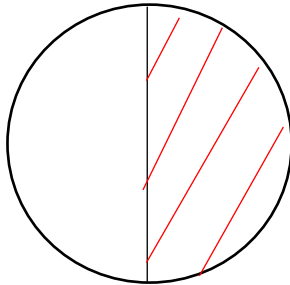
س9: قارن باستخدام < أو > أو = :-

كوب لتر <

كوب لتر >

كوب لتر =

س10: لَوّن من كل شكل جزء واحد :-



معلمة المادة:

أ/ فادية حمود

شعارنا : تطوير قائم على الفهم لتكون الأنموذج الرائد على الدوام

Our Motto: Development based on understanding to be the perfect pioneering model.

س11: اختر الإجابة الصحيحة :-

(1) 56 متراً + 35 متراً =

95



91



87



86



(2) ثمانية أمتار تساوي _____ سنتمتر

900



800



600



400



(3) 1 متر =

100 سنتمتر



1000 سنتمتر



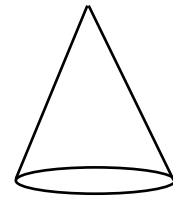
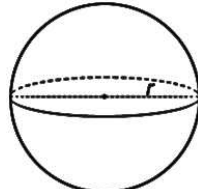

10 سنتمتر



1 سنتمتر



(4) الشكل الذي لا ينتمي للمجموعة



معلمة المادة:

أ/ فادية حمود

شعارنا : تطوير قائم على الفهم لتكون الأنموذج الرائد على الدوام

Our Motto: Development based on understanding to be the perfect pioneering model.

س12: عدّ لإيجاد قيمة العملات :-

①

| | | | | |
|---------|---------|----------|----------|----------|
| (5 فلس) | (5 فلس) | (10 فلس) | (10 فلس) | (25 فلس) |
|---------|---------|----------|----------|----------|

$$25 \text{ فلساً} + 35 \text{ فلساً} + 45 \text{ فلساً} + 50 \text{ فلساً} + 55 \text{ فلساً} = 55 \text{ فلساً.}$$

②

| | | | | | | |
|---------|---------|---------|---------|----------|----------|----------|
| (1 فلس) | (1 فلس) | (5 فلس) | (5 فلس) | (10 فلس) | (25 فلس) | (25 فلس) |
|---------|---------|---------|---------|----------|----------|----------|

$$25 \text{ فلساً} + 50 \text{ فلساً} + 60 \text{ فلساً} + 65 \text{ فلساً} + 70 \text{ فلساً} + 71 \text{ فلساً} + 72 \text{ فلساً} = 72 \text{ فلساً.}$$

س13: أجب عن الأسئلة :-

① لدى خالد 2 عملة من فئة 25 فلساً و 5 عملات من فئة 10 فلسات،

ما مقدار المال الذي مع خالد؟

100 فلساً.

② مع سلمى 3 عملات من فئة 25 فلساً ومع صديقتها منى 6 عملات من فئة

10 فلسات، من معها فلسات أكثر؟ سلمى

بكم تزيد سلمى عن منى؟ 15 فلساً.

معلمة المادة:

أ/ فادية حمود

شعارنا : تطوير قائم على الفهم لتكون الأنموذج الرائد على الدوام

Our Motto: Development based on understanding to be the perfect pioneering model.

س14: ارسم دائرة حول الإجابة الصحيحة :-

① 10 فلسات

1
فلس

10
فلس

5
فلس

② 25 فلساً

5
فلس

10
فلس

25
فلس

③ 1 درهم

1
درهم

50
فلس

25
فلس

25
فلس

④ قيمة العملات

1
فلس

5
فلس

5
فلس

10
فلس

10
فلس

25
فلس

56 فلساً

31 فلساً

27 فلساً

51 فلساً

⑤ وجد محمد 1 ربع درهم وعملتين فئة 10 فلسات وكان لديه 40 فلساً،

كم يحتاج من المال ليصبح معه 1 درهم؟

25 فلساً

15 فلساً

30 فلساً

20 فلساً

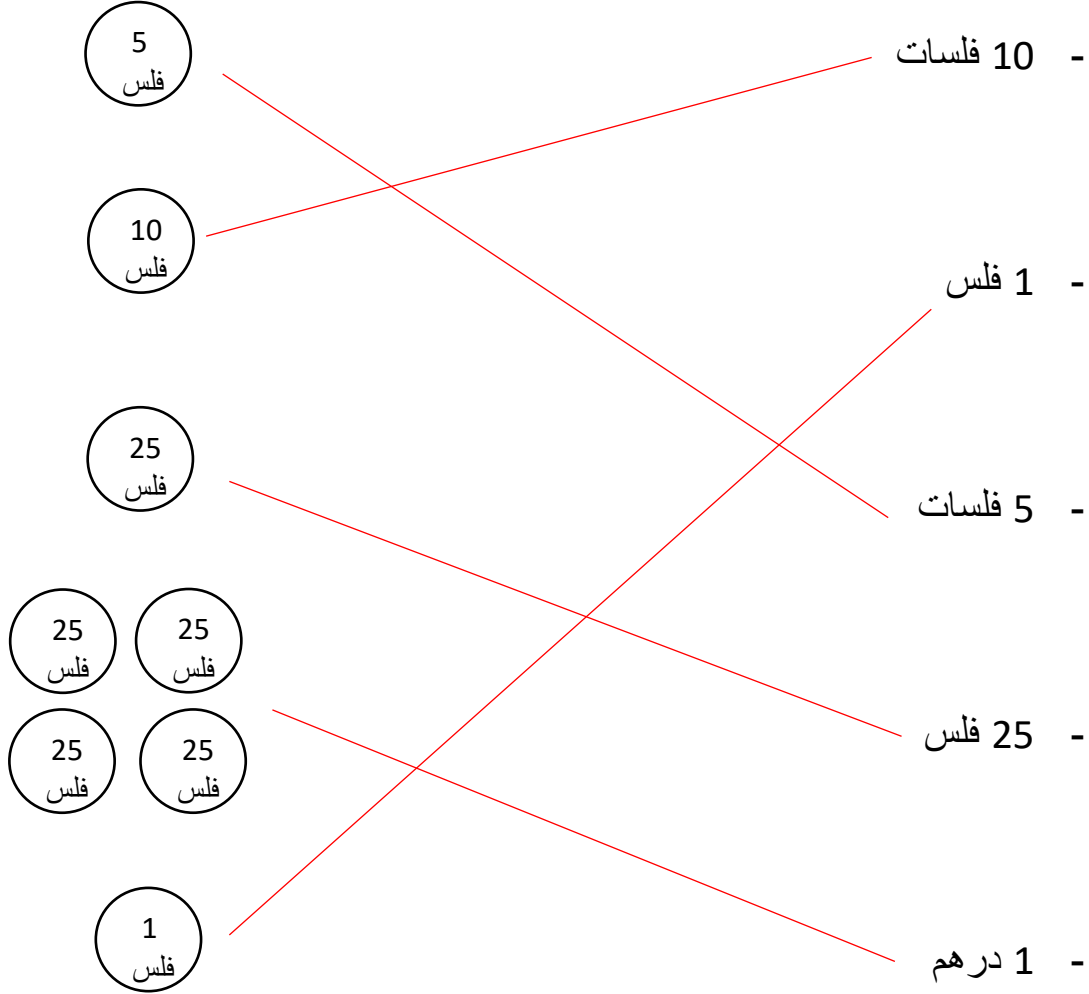
معلمة المادة:

أ/ فادية حمود

شعارنا : تطوير قائم على الفهم لتكون الأنموذج الرائد على الدوام

Our Motto: Development based on understanding to be the perfect pioneering model.

س15: ارسم خطأ بين الكلمة وما يطابقها :-



معلمة المادة:

أ/ فادية حمود

شعارنا : تطوير قائم على الفهم لتكون الأنموذج الرائد على الدوام

Our Motto: Development based on understanding to be the perfect pioneering model.