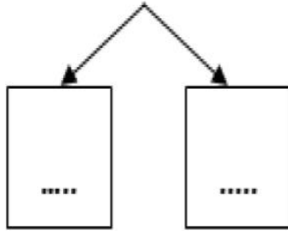


ورق عمل رياضيات
الفصل الدراسي الثاني العام الدراسي 2018-2019

السؤال الاول : باستخدام تكوين **10** للطرح اوجد الناتج:

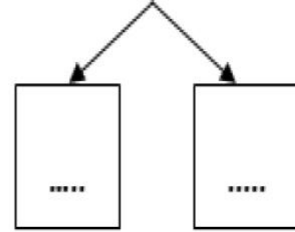
$$14 - 7 = \dots$$



$$14 - \dots = \dots$$

$$\dots - \dots = \dots$$

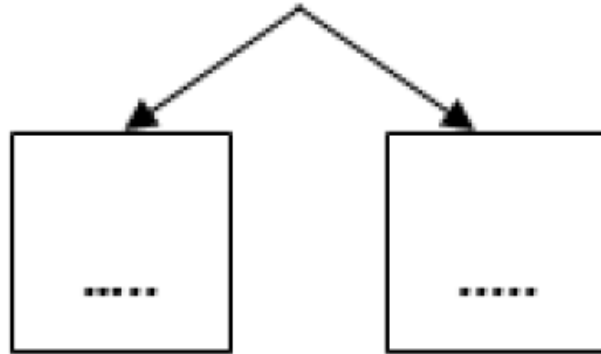
$$15 - 8 = \dots$$



$$15 - \dots = \dots$$

$$\dots - \dots = \dots$$

$$18 - 9 = \dots$$



$$18 - \dots = \dots$$

$$\dots - \dots = \dots$$